



# II stage test tournament

## Pytania testowe II etapu

6th International Geopolitical Competition  
VI Międzynarodowa Olimpiada Geopolityczna

# RULES

- The test duration is 60 minutes and it contains 60 test questions. You shall put your answers in previously sent form and it shouldn't be sent back later than midday (Warsaw time).
- You are prohibited to use any help from other people. Your personal notes, books, or the Internet is allowed.
- For correct response you will gain 1 point, for no answer there is no penalty, and for wrong one there is -1 point penalty.
- You are not allowed to change previously given answers. To answer a question put X mark on a table in your printed form.

# ZASADY

- Test trwa 60 minut i ma 60 pytań, odpowiedzi należy wskazać na przesłanym formularzu i wysłać nie później niż o godzinie 12:00
- Można korzystać ze wszelkich pomocy, za wyjątkiem osób trzecich, w tym telefonu
- Za prawidłową odpowiedź otrzymuje się 1 punkt. Za brak odpowiedzi otrzymuje się 0. Za nieprawidłową -1.
- Nie można zmieniać raz oddanych odpowiedzi. Udziela się ich poprzez zakreślenie X w odpowiedniej kratce.



# POLITICAL SCIENCE

## NAUKI POLITYCZNE

1.

The 45th US president resigned from the agreement concluded with 11 other countries by his predecessor, which provided for the reduction of tariff barriers. Which international agreement is it about?

- A. Carribean Partnership
- B. the NAFTA Agreement
- C. deal to extend the Maquiladora system
- D. SALT III
- E. USA-OPEC treaty
- F. Trans-Pacific Partnership

45-ty prezydent USA zrezygnował z zawartej umowy z 11 innymi krajami przez swojego poprzednika, która przewidywała redukcję barier celnych. O którą umowę międzynarodową chodzi?

- A. Partnerstwa Karaibskiego
- B. umowy NAFTA
- C. umowa rozszerzająca system Maquiladora
- D. SALT III
- E. umowa USA-OPEC
- F. Partnerswa Transpacyficznego



# POLITICAL SCIENCE

## NAUKI POLITYCZNE

# 2.

Russian political and military activities before the war in Ukraine and in its first stage were the implementation of:

- A. doctrine of Putin
- B. doctrine of Shoygu
- C. doctrine of Yeltsin
- D. doctrine of Prigozhin
- E. doctrine of Gerasimov
- F. doctrine of Gerasimov 2.0

Rosyjskie działania polityczno-militarne przed wojną na Ukrainie oraz w pierwszym jej etapie były realizacją:

- A. doktryny Putina
- B. doktryny Szojgu
- C. doktryny Jelcyna
- D. doktryny Prigożina
- E. doktryny Gierasimowa
- F. doktryny Gierasimowa 2.0



# POLITICAL SCIENCE

## NAUKI POLITYCZNE

3.

Which country was the first High Representative in Bosnia and Herzegovina from?

- A. Croatia
- B. Montenegro
- C. Poland
- D. Serbia
- E. Sweden
- F. Ukraine

Z którego państwa pochodził pierwszy Wysoki Przedstawiciel w Bośni i Hercegowinie?

- A. z Chorwacji
- B. z Czarnogóry
- C. z Polski
- D. z Serbii
- E. ze Szwecji
- F. z Ukrainy



# POLITICAL SCIENCE

## NAUKI POLITYCZNE

4.

The agreement concluded in 2021 called AUKUS is aimed against:

- A) Australia
- B) China
- C) India
- D) Iran
- E) USA
- F) global terrorism

Umowa zawarta w 2021 o nazwie AUKUS wymierzona jest przeciwko:

- A) Australii
- B) Chinom
- C) Indiom
- D) Iranowi
- E) USA
- F) globalnemu terroryzmowi



# POLITICAL SCIENCE

## NAUKI POLITYCZNE

5.

The distinction between the LULUCF pillar and the ETS is contained in:

- A. in the package of China-Russia environmental agreements
- B. in the AFOL treaty
- C. in the CH<sub>4</sub> strategy
- D. in the agreement on increasing CO<sub>2</sub> sequestration
- E. in the Tokyo doctrine
- F. in the Fit for 55 package

Rozróżnienie pomiędzy filarem LULUCF a ETS zawarte jest:

- A. w pakiecie umów środowiskowych Chiny-Rosja
- B. w traktacie AFOLU
- C. w strategii CH<sub>4</sub>
- D. w umowie o zwiększeniu sekwestracji CO<sub>2</sub>
- E. w doktrynie tokijskiej
- F. w pakiecie Fit for 55



# POLITICAL SCIENCE

## NAUKI POLITYCZNE

6.

Which country is divided into  
marzers?

- A. Armenia
- B. Azerbaijan
- C. Bhutan
- D. Nepal
- E. Thailand
- F. Zambia

Które państwo podzielone  
jest na marcery?

- A. Armenia
- B. Azerbejdżan
- C. Bhutan
- D. Nepal
- E. Tajlandia
- F. Zambia





# POLITICAL SCIENCE

## NAUKI POLITYCZNE

7.

The water conflict in  
Mesopotamia is between:

- A. Iraq and Iran
- B. Iraq and Kuwait
- C. Iraq, Kuwait and Iran
- D. Iraq and Syria
- E. Iraq, Syria and Turkey
- F. Shiites and Sunnis

Konflikt o wodę w  
Mezopotamii rozgrywa się  
pomiędzy:

- A. Irakiem i Iranem
- B. Irakiem i Kuwejtem
- C. Irakiem, Kuwejtem i Iranem
- D. Irakiem i Syrią
- E. Irakiem, Syrią i Turcją
- F. szyitami i sunnitami



# SECURITY STUDIES

## NAUKI O BEZPIECZEŃSTWIE

8.

The most numerous peoples deprived  
of a sovereign state are:

- A. Catalans
- B. Kurds
- C. Maori
- D. Tamils
- E. Tibetans
- F. Uighurs

Najliczniejszym narodem pozbawionym  
suwerennego państwa są:

- A. Katalończycy
- B. Kurdowie
- C. Maorysi
- D. Tamilowie
- E. Tybetańczycy
- F. Ujgurzy



# SECURITY STUDIES

## NAUKI O BEZPIECZEŃSTWIE

9.

The largest rupture ever known to have been caused by an earthquake took place in:

- A. 2001
- B. 2004
- C. 2007
- D. 2009
- E. 2011
- F. 2014

Największe znane pęknięcie spowodowane trzęsieniem ziemi miało miejsce w:

- A. 2001
- B. 2004
- C. 2007
- D. 2009
- E. 2011
- F. 2014



# SECURITY STUDIES

## NAUKI O BEZPIECZEŃSTWIE

10.

Name the seventh largest corporation in the cybersecurity industry.

- A. Akamai Technologies
- B. CyberArk
- C. Digital-gen
- D. Qualys
- E. Sentinel One
- F. Trend Micro

Podaj nazwę siódmej największej korporacji w branży cyberbezpieczeństwa.

- A. Akamai Technologies
- B. CyberArk
- C. Gen Digital
- D. Qualys
- E. Sentinel One
- F. Trend Micro



# SECURITY STUDIES

## NAUKI O BEZPIECZEŃSTWIE

11.

Which country was the victim of the "Titan Rain" attack?

- A. Bulgaria
- B. Estonia
- C. France
- D. Georgia
- E. Russia
- F. Venezuela

Które państwo stało się ofiarą ataku „Titan Rain”?

- A. Bułgaria
- B. Estonia
- C. Francja
- D. Gruzja
- E. Rosja
- F. Wenezuela



Which country is militarily the strongest between Mexico and Colombia?

- A. Belize
- B. Costa Rica
- C. Guatemala
- D. Honduras
- E. Nicaragua
- F. Panama

Które państwo jest militarnie najsilniejsze pomiędzy Meksykiem a Kolumbią?

- A. Belize
- B. Kostaryka
- C. Gwatemala
- D. Honduras
- E. Nikaragua
- F. Panama



# SECURITY STUDIES

## NAUKI O BEZPIECZEŃSTWIE

13.

Which country has as many as 6 million members of paramilitary units?

- A. Bangladesh
- B. China
- C. India
- D. Indonesia
- E. Russia
- F. USA

Które państwo posiada aż 6 milionów członków jednostek paramilitarnych?

- A. Bangladesz
- B. Chiny
- C. India
- D. Indonezja
- E. Rosja
- F. USA



# SECURITY STUDIES

## NAUKI O BEZPIECZEŃSTWIE

14.

Which country bears the highest cost of maintaining its nuclear arsenal as a percentage of its defense budget?

- A. China
- B. France
- C. India
- D. Pakistan
- E. Russia
- F. USA

Który kraj ponosi najwyższe koszty utrzymania posiadanego arsenału jądrowego jako odsetek budżetu obronnego?

- A. Chiny
- B. Francja
- C. India
- D. Pakistan
- E. Rosja
- F. USA





# SOCIAL AFFAIRS

## NAUKI SPOŁECZNE

15.

The Christian national minority of Burma (Myanma), privileged during the colonial period and now marginalised and struggling for independence are:

- A. Bamars
- B. Kachin
- C. Karen
- D. Mon
- E. Rohingja
- F. Shan

Chrześcijańska mniejszość narodowa Birmy (Myanma), uprzywilejowana w okresie kolonialnym a obecnie zepchnięta na margines i walcząca o niepodległość to:

- A. Bamarowie
- B. Kaczinowie
- C. Karenowie
- D. Monowie
- E. Rohingjowie
- F. Szanowie



The Outer Space Treaty of 1967 defines the boundary between the atmosphere and outer space at:

- A) 100 km
- B) 200 km
- C) Karman line
- D) mesopause
- E) dependent on the internal law of individual countries
- F) unspecified altitude

Traktat o przestrzeni kosmicznej z 1967 roku określa granicę pomiędzy atmosferą a kosmosem na wysokości:

- A) 100 km
- B) 200 km
- C) Linii Karmana
- D) mezopauzy
- E) zależnej od prawa wewnętrznego poszczególnych państw
- F) nieokreślonej



# SOCIAL AFFAIRS

## NAUKI SPOŁECZNE

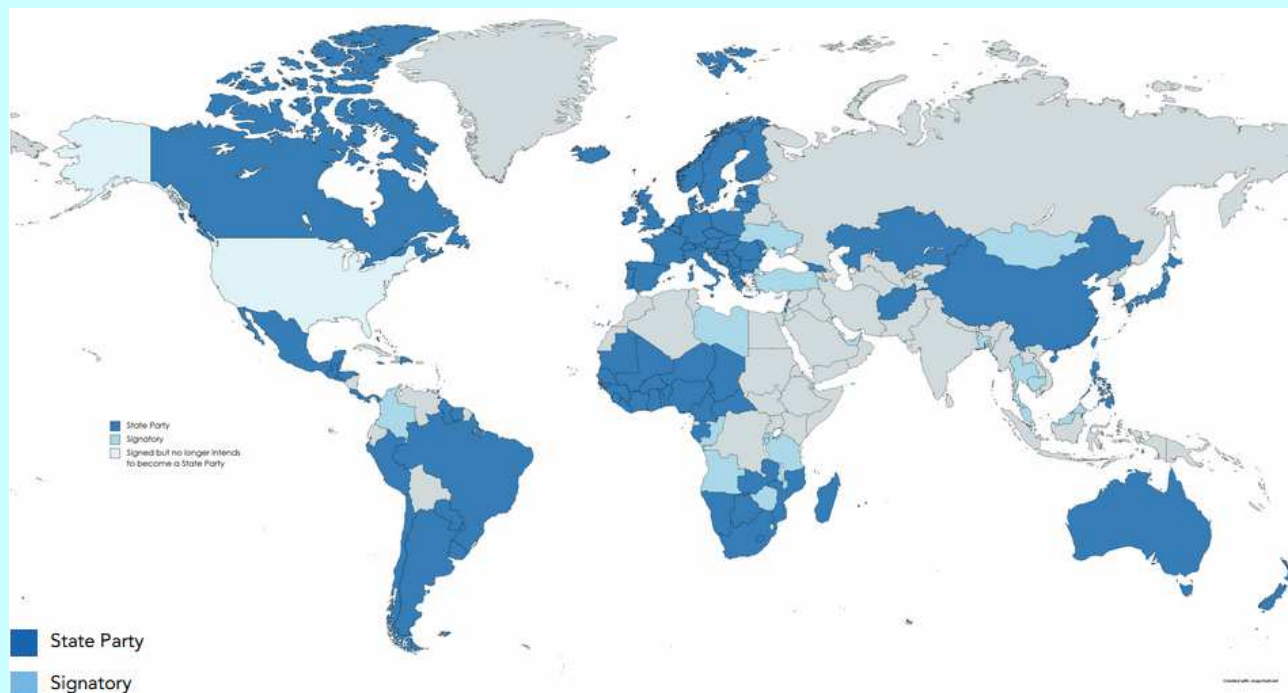
17.

The map shows the parties and signatories of the international agreement:

- A. ATT
- B. ATW
- C. CTP
- D. GATT
- E. TPP
- F. WHO

Mapa przedstawia strony oraz sygnatariuszy umowy międzynarodowej:

- A. ATT
- B. ATW
- C. CTP
- D. GATT
- E. TPP
- F. WHO





# SOCIAL AFFAIRS

## NAUKI SPOŁECZNE

18.

Black propaganda is characterized by:

- A. falsity of the source of the message
- B. origin from a well-identified sender
- C. allowing incorrect source identification
- D. falsification of metadata
- E. religious background
- F. political correctness

Propaganda czarna cechuje się:

- A. fałszywością źródła komunikatu
- B. pochodzeniem od dobrze zidentyfikowanego nadawcy
- C. dopuszczaniem niepoprawnej identyfikacji źródła
- D. fałszywością metadanych
- E. podłożem religijnym
- F. polityczną poprawnością



# SOCIAL AFFAIRS

## NAUKI SPOŁECZNE

19.

Who discovered that the worldviews of different nations differ from each other because of differences in the internal structures of their languages?

- A. Edward Sapir
- B. Ferdinand de Saussure
- C. Gottfried Herder
- D. Johann Georg Hamann
- E. Leo Weisberger
- F. Wilhelm von Humboldt

Kto odkrył, że światopoglądy występujące w poszczególnych narodach różnią się między sobą przez różnice w strukturach wewnętrznych ich języków?

- A. Edward Sapir
- B. Ferdinand de Saussure
- C. Gottfried Herder
- D. Johann Georg Hamann
- E. Leo Weisberger
- F. Wilhelm von Humboldt



# SOCIAL AFFAIRS

## NAUKI SPOŁECZNE

20.

Critical geopolitics is based  
on the theory created by:

- A. August Comte
- B. Emile Durkheim
- C. Immanuel Kant
- D. Karl Marx
- E. Martin Heidegger
- F. Max Weber

Geopolityka krytyczna  
oparta jest na teorii:

- A. Augusta Comte'a
- B. Emile Durkheima
- C. Immanuela Kanta
- D. Karla Marxa
- E. Martina Heideggera
- F. Maxa Webera



# GEOGRAPHY

## GEOGRAFIA

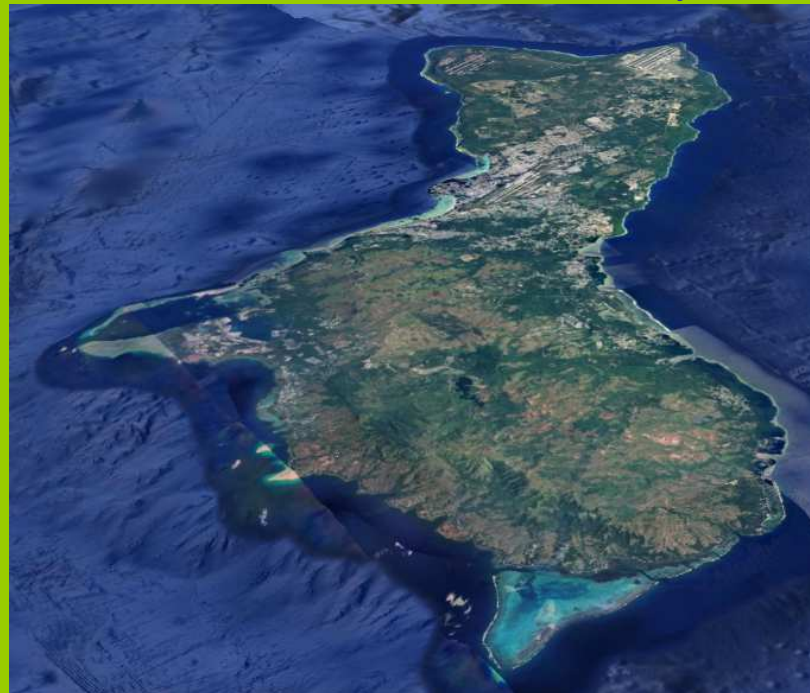
21.

What's the name of this island?

- A. Flores
- B. Guam
- C. Hokkaido
- D. Madagascar
- E. Puerto Rico
- F. Sardinia

Jak nazywa się ta wyspa?

- A. Flores
- B. Guam
- C. Hokkaido
- D. Madagascar
- E. Portoryko
- F. Sardynia







# GEOGRAPHY

## GEOGRAFIA

22.

In which country is the place indicated in the photo located?

- A. Bolivia
- B. Botswana
- C. China
- D. Mongolia
- E. Namibia
- F. USA

W którym państwie znajduje się wskazane na zdjęciu miejsce?

- A. Boliwia
- B. Botswana
- C. Chiny
- D. Mongolia
- E. Namibia
- F. USA







# GEOGRAPHY

## GEOGRAFIA

23.

How many provinces are in Spain?

- A. 20
- B. 30
- C. 40
- D. 50
- E. 60
- F. 70

Ile prowincji wchodzi w skład Hiszpanii?

- A. 20
- B. 30
- C. 40
- D. 50
- E. 60
- F. 70



# GEOGRAPHY

## GEOGRAFIA

24.

Which city in Germany is the most populous of the listed capitals of the federal states?

- A. Dresden
- B. Dusseldorf
- C. Erfurt
- D. Kiel
- E. Stuttgart
- F. Wiesbaden

Które miasto w Niemczech z wymienionych stolic landów jest najludniejsze?

- A. Drezno
- B. Dusseldorf
- C. Erfurt
- D. Kilonia
- E. Stuttgart
- F. Wiesbaden



# GEOGRAPHY

## GEOGRAFIA

25.

Which of the following nations is currently the most persecuted by the Taliban rule in Afghanistan?

- A. Baluch
- B. Hazaras
- C. Mongols
- D. Pashtuns
- E. Tajiks
- F. Uzbeks

Który z wymienionych narodów jest obecnie najbardziej prześladowany przez rządy talibów w Afganistanie?

- A. Beludżowie
- B. Hazarowie
- C. Mongołowie
- D. Pasztuni
- E. Tadżycy
- F. Uzbegy



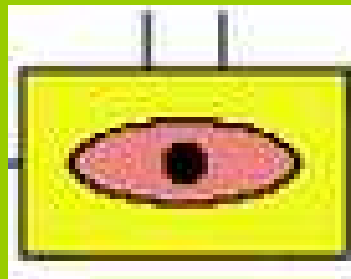
# GEOGRAPHY

## GEOGRAFIA

26.

This tactical signature represents:

- A. self-propelled artillery battalion
- B. anti-aircraft artillery battalion
- C. command company
- D. aeromobile company
- E. tank platoon
- F. infantry platoon



Znak taktyczny przedstawia:

- A. batalion artylerii samobieżnej
- B. batalion artylerii przeciwlotniczej
- C. kompanię dowodzenia
- D. kompanię aeromobilną
- E. pluton czołgów
- F. pluton piechoty



# GEOGRAPHY

## GEOGRAFIA


27.

The photo shows a fragment of a border.  
Between which countries does it run?

- A. Belgium and the Netherlands
- B. Switzerland and Austria
- C. Italy and Austria
- D. Sweden and Norway
- E. Germany and France
- F. Germany and Switzerland

Zdjęcie przedstawia fragment pewnej  
granicy. Między którymi państwami  
ona przebiega?

- A. Belgią a Holandią
- B. Szwajcarią a Austrią
- C. Włochami a Austrią
- D. Szwecją a Norwegią
- E. Niemcami a Francją
- F. Niemcami a  
Szwajcarią





# REGIONAL GEOPOLITICS

## GEOPOLITYKA REGIONALNA

28.

12 countries included in the  
Three Seas Initiative  
concept:

- A. covers about 30% of the territory of the European Union,
- B. accounts for about 50% of the population of the European Union
- C. generates about 45% of the GDP of the European Union
- D. has a lower overall rate of economic growth than the countries of the "old" EU
- E. belongs to NATO
- F. seek to introduce a single currency

12 państw wchodzących w  
skład koncepcji  
Trójmorza:

- A. zajmuje około 30% obszaru Unii Europejskiej,
- B. stanowi ok. 50% ludności Unii Europejskiej
- C. wytwarza około 45% PKB Unii Europejskiej
- D. ma łącznie niższe tempo wzrostu gospodarczego od państw „starej” Unii
- E. należy do NATO
- F. dąży do wprowadzenia wspólnej waluty



## REGIONAL GEOPOLITICS

### GEOPOLITYKA REGIONALNA

29.

In the territory of the smallest African country, located in the so-called "horn of Africa", there is no military bases of:

- A. Japanese
- B. Americans
- C. Italians
- D. French
- E. Chinese
- F. Germans

Na obszarze najmniejszego afrykańskiego państwa, położonego w tzw. „rogu Afryki”, swoich baz wojskowych nie posiadają:

- A. Japończycy
- B. Amerykanie
- C. Włosi
- D. Francuzi
- E. Chińczycy
- F. Niemcy



## REGIONAL GEOPOLITICS

### GEOPOLITYKA REGIONALNA

30.

The conflict in Yemen, which has been ongoing since 2015, is considered a *proxy war* between two regional powers. They are:

- A. Saudi Arabia and UAE
- B. Iran and Saudi Arabia
- C. Iran and Egypt
- D. Saudi Arabia and Oman
- E. Turkey and Egypt
- F. Kuwait and Djibouti

Toczący się od 2015 roku konflikt w Jemenie jest uznawany za *wojnę zastępczą* dwóch regionalnych mocarstw. Są nimi:

- A. Arabia Saudyjska i ZEA
- B. Iran i Arabia Saudyjska
- C. Iran i Egipt
- D. Arabia Saudyjska i Oman
- E. Turcja i Egipt
- F. Kuwejt i Dżibuti





## REGIONAL GEOPOLITICS

### GEOPOLITYKA REGIONALNA

31.

The pulp mill became the subject of a dispute that in 2005 almost led to an armed conflict known as the paper war between:

- A. Brazil and Bolivia
- B. Argentina and Uruguay
- C. Ecuador and Peru
- D. Ecuador and Colombia
- E. Peru and Chile
- F. Argentina and Paraguay

Fabryka celulozy stała się przedmiotem sporu, który w 2005 roku niemal doprowadził do konfliktu zbrojnego zwanego wojną papierową pomiędzy:

- A. Brazylią a Boliwią
- B. Argentyną a Urugwajem
- C. Ekwadorem a Peru
- D. Ekwadorem a Kolumbią
- E. Peru a Chile
- F. Argentyną a Paragwajem



How many countries make up the Caucasian buffer zone, which is part of the "*cordon sanitaire* of Russia":

- A. 2
- B. 3
- C. 4
- D. 5
- E. 6
- F. None, because this is the territory of the autonomous republics that are part of the Russian Federation

Z ilu państw składa się kaukaska strefa buforowa, wchodząca w skład „kordonu sanitarnego Rosji”:

- A. 2
- B. 3
- C. 4
- D. 5
- E. 6
- F. Z żadnego, ponieważ jest to obszar autonomicznych republik wchodzących w skład Federacji Rosyjskiej



## REGIONAL GEOPOLITICS

### GEOPOLITYKA REGIONALNA

33.

The valley of which river was the arena of bloody fights in 2020 between soldiers of countries that have nuclear arsenals?

- A. Ob
- B. Amur
- C. Galwan
- D. Irrawaddy
- E. Indus
- F. Satluj

Dolina której rzeki była w 2020 roku areną krwawych walk, pomiędzy żołnierzami państw, które dysponują arsenałem atomowym?

- A. Ob
- B. Amur
- C. Galwan
- D. Irawadi
- E. Indus
- F. Satledź



# REGIONAL GEOPOLITICS

## GEOPOLITYKA REGIONALNA

34.

The new directions of the defense strategy of the Commonwealth of Australia presented this year are primarily a response to:

- A. Increased number of illegal immigrants
- B. Demographic crisis in Australia
- C. The unstable political situation of Melanesia
- D. India's aggressive policy in the Indian Ocean region
- E. Russian aggression against Ukraine
- F. The growing economic and military power of the People's Republic of China

Przedstawione w tym roku, nowe kierunki strategii obronnej Związku Australijskiego, są odpowiedzią przede wszystkim na:

- A. Zwiększoną liczbę nielegalnych imigrantów
- B. Kryzys demograficzny w Australii
- C. Niestabilną sytuację polityczną Melanezji
- D. Agresywną politykę Indii w rejonie Oceanu Indyjskiego
- E. Rosyjską agresję na Ukrainę
- F. Rosnącą potęgę gospodarczą i wojskową Chińskiej Republiki Ludowej



## REGIONAL GEOPOLITICS

### GEOPOLITYKA REGIONALNA

35.

Which city is not the base of the Northern Fleet of Russia?

- A. Dikson
- B. Murmansk
- C. Polarnyy
- D. Severomorsk
- E. Snezhnogorsk
- F. Vidaevo

Które miasto nie jest bazą Floty Północnej Rosji?

- A. Dikson
- B. Murmańsk
- C. Polarny
- D. Siewieromorsk
- E. Śnieżnogorsk
- F. Widajewo



# MILITARY SCIENCE

## NAUKI WOJSKOWE

36.

In which countries has the Ansar ul Islam guerrilla movement been in civil war since 2016?

- A. Burkina Faso and Mali
- B. Burkina Faso and Nigeria
- C. Ghana, Togo and Benin
- D. Ghana and Ivory Coast
- E. Mali and Senegal
- F. Niger and Nigeria

W których państwach wojnę domową toczył ruch partyzancki Ansar ul Islam od 2016 roku?

- A. Burkina Faso i Mali
- B. Burkina Faso i Nigeria
- C. Ghana, Togo i Benin
- D. Ghana i Wybrzeże Kości Słoniowej
- E. Mali i Senegal
- F. Niger i Nigeria



# MILITARY SCIENCE

## NAUKI WOJSKOWE

37.

Who was the first leader of the so-called Islamic State (ad-Dawlah al-Islāmiyah, Islamic State):

- A. Abū Mus‘ab az-Zarqāwī.
- B. Abu al-Hasan al-Hashimi al-Qurashi.
- C. Sayf al-Baghdad.
- D. Abu Bakr al-Baghdadi.
- E. Ahmad Fadil an-Nazzal al-Khalaila
- F. Ahmad Fadeel al-Nazal al-Khalayleh.

Kto był pierwszym przywódcą tzw. Państwa Islamskiego (ad-Dawlah al-Islāmiyah, Islamic State):

- A. Abū Mus‘ab az-Zarqāwī.
- B. Abu al-Hasan al-Hashimi al-Qurashi.
- C. Sayf al-Baghdad.
- D. Abu Bakr al-Baghdadi.
- E. Ahmad Fadil an-Nazzal al-Chalaila
- F. Ahmad Fadeel al-Nazal al-Khalayleh.



# MILITARY SCIENCE

## NAUKI WOJSKOWE

38.

In which year did Israel suffer a significant military and political defeat in the war against Hezbollah:

- A. 1978.
- B. 1980.
- C. 1982.
- D. 1993.
- E. 1996.
- F. 2006.

Wskaż w którym roku Izrael poniósł znaczącą porażkę wojskową i polityczną w wojnie z ugrupowaniem Hezbollah:

- A. 1978.
- B. 1980.
- C. 1982.
- D. 1993.
- E. 1996.
- F. 2006.





# MILITARY SCIENCE

## NAUKI WOJSKOWE

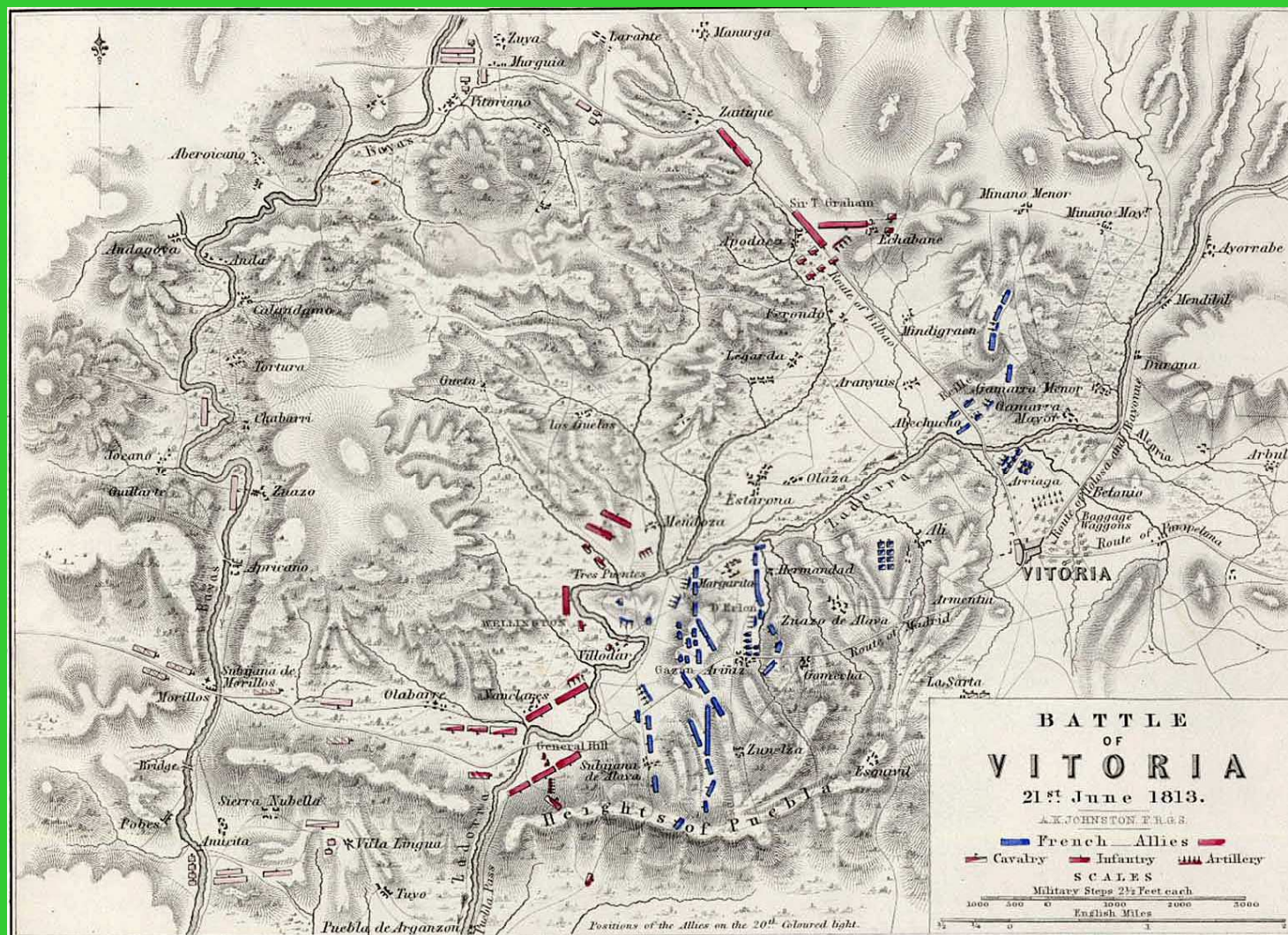
39.

Where did this battle take place?

- A. in France
- B. in Spain
- C. in Mexico
- D. in Portugal
- E. in the USA
- F. in the UK

Gdzie odbyła się ta bitwa?

- A. we Francji
- B. w Hiszpanii
- C. w Meksyku
- D. w Portugalii
- E. w USA
- F. w Wielkiej Brytanii





# MILITARY SCIENCE

## NAUKI WOJSKOWE

40.

How many submarines does the Philippines plan to acquire by 2030?

A. none

B. 1

C. 2

D. 3

E. 5

F. 8

Ile okrętów podwodnych do 2030 roku Filipiny planują pozyskać?

A. żadnego

B. 1

C. 2

D. 3

E. 5

F. 8



# MILITARY SCIENCE

## NAUKI WOJSKOWE

41.

In which war did jet-powered planes fight against each other for the first time?

- A. The Second World War
- B. First Indochina War
- C. Iran-Iraq War
- D. Korean War
- E. Vietnamese War
- F. Yom Kippur War

W której wojnie po raz pierwszy walczyły przeciwko sobie samoloty o napędzie odrzutowym?

- A. druga wojna światowa
- B. pierwsza wojna indochińska
- C. wojna iracko-irańska
- D. wojna koreańska
- E. wojna wietnamska
- F. wojna Yom Kippur



# ECONOMICS

## EKONOMIA

42.

Which strait in Southeast Asia is the most important sea trade route?

- A. Javanese
- B. Malacca
- C. Hormuz
- D. Singaporean
- E. Sunda
- F. Tatar

Która cieśnina w Azji Południowo-Wschodniej jest najważniejszym handlowym szlakiem morskim?

- A. Jawajska
- B. Malakka
- C. Ormuz
- D. Singapurska
- E. Sunda
- F. Tatarska





# ECONOMICS

## EKONOMIA

43.

Where do countries of the Organization of Eastern Caribbean States export their most valuable goods?

- A. France
- B. Guyana
- C. Switzerland
- D. USA
- E. Venezuela
- F. Great Britain

Gdzie państwa Organizacji Krajów Wschodnich Karaibów eksportują towary o największej wartości?

- A. Francja
- B. Gujana
- C. Szwajcaria
- D. USA
- E. Wenezuela
- F. Wielka Brytania



# ECONOMICS

## EKONOMIA

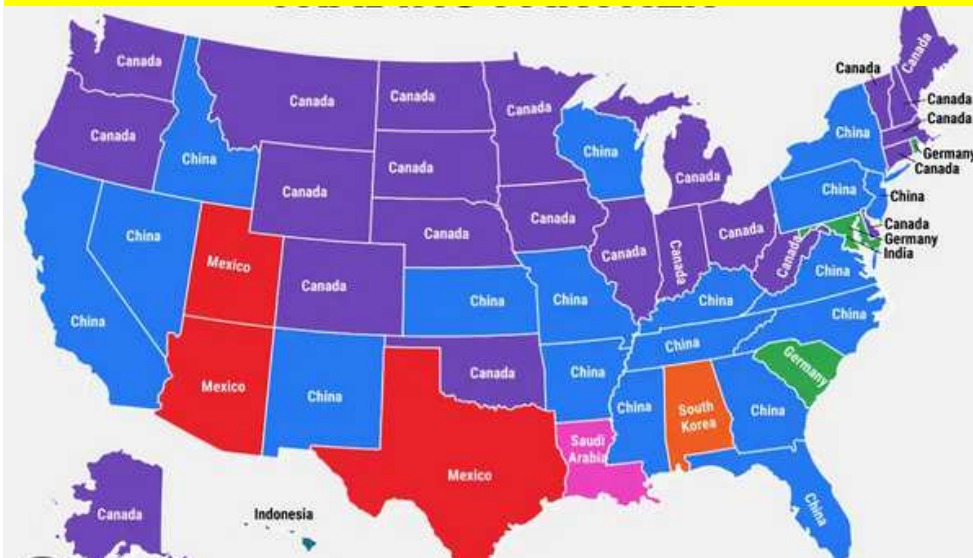
44.

The US map below shows the states and their:

- A. largest trading partner
- B. largest supplier of imported goods
- C. the largest recipient of exported goods
- D. the largest foreign shareholder in the banking sector
- E. the largest foreign shareholder in the service sector
- F. largest foreign investor

Poniższa mapa USA przedstawia stany i ich:

- A. największego partnera handlowego
- B. największego dostawcę towarów importowanych
- C. największego odbiorcę towarów eksportowanych
- D. największego zagranicznego udziałowca w sektorze bankowym
- E. największego zagranicznego udziałowca w sektorze usług
- F. największego zagranicznego inwestora





# ECONOMICS

## EKONOMIA

45.

What is an example of glocalization?

- A. labor migration to large metropolises
- B. moving factories to small towns
- C. outsourcing
- D. introduction of different language versions of Windows by Microsoft
- E. the introduction of rice dishes by the McDonald's in India and China
- F. the use of only local suppliers by producers

Co jest przykładem glokalizacji?

- A. migracja zarobkowa do dużych metropolii
- B. przenoszenie fabryk do małych miast
- C. outsourcing
- D. wprowadzenie przez Microsoft różnych wersji językowych Windowsa
- E. wprowadzenie przez sieć McDonald's dań ryżowych w Indiach i Chinach
- F. wykorzystywanie przez producentów wyłącznie lokalnych dostawców



# ECONOMICS

## EKONOMIA

46.

Which country has the most  
billionaires?

- A. Brazil
- B. Canada
- C. France
- D. Italy
- E. Singapore
- F. Great Britain

W którym z wymienionych  
państw żyje najwięcej  
miliarderów?

- A. Brazylia
- B. Kanada
- C. Francja
- D. Włochy
- E. Singapur
- F. Wielka Brytania





# ECONOMICS

## EKONOMIA

47.

Which of the following countries has the largest share of tourism in GDP?

- A. Cambodia
- B. Croatia
- C. Greece
- D. Lebanon
- E. Maldives
- F. Montenegro

Które z wymienionych państw ma największy udział turystyki w PKB?

- A. Kambodża
- B. Chorwacja
- C. Grecja
- D. Liban
- E. Malediwy
- F. Czarnogóra



Which country and in which year produced and detonated the most powerful hydrogen bomb in the world, over 50 megatons in the atmosphere?

- A. United States in 1956
- B. Great Britain in 1960
- C. The Soviet Union in 1961
- D. China in 1989
- E. North Korea in 2010
- F. France in 1960

Jakie państwo i w którym roku wyprodukowało i zdetonowało w atmosferze najpotężniejszą bombę wodorową w świecie o mocy ponad 50 megaton?

- A. Stany Zjednoczone w 1956 roku
- B. Wielka Brytania w 1960 roku
- C. Związek Radziecki w 1961 roku
- D. Chiny w 1989 roku
- E. Korea Północna w 2010 w roku
- F. Francja w 1960 roku



What was the name of the world's first nuclear-powered submarine?

- A. Hawk
- B. Kursk
- C. Nautilus
- D. Poseidon
- E. Viking
- F. Victoria

Jak się nazywał pierwszy na świecie okręt podwodny o napędzie atomowym?

- A. Jastrząb
- B. Kursk
- C. Nautilus
- D. Posejdon
- E. Wiking
- F. Wiktorja



Where and when was the first successfully guided anti-aircraft missile to shoot down a spy plane used?

- A. in Turkey in 1959
- B. in the USSR in 1960
- C. in Norway in 1962
- D. in North Vietnam in 1965
- E. in Egypt in 1967
- F. in Syria in 1973.

Gdzie i kiedy po raz pierwszy użyto skutecznie kierowany przeciwlotniczy pocisk raketowy, który zestrzelił samolot szpiegowski?

- A. w Turcji w 1959 roku
- B. w ZSRR w 1960 roku
- C. w Norwegii w 1962 roku
- D. w Wietnamie Północnym w 1965 roku
- E. w Egipcie w 1967 roku
- F. w Syrii w 1973 r.



What was the name of the first mass-produced and combat-used aircraft with variable wing geometry?

- A. Mig - 23
- B. Mirage F1 C
- C. F-111
- D. Tornado
- E. F-104 Starfighter
- F. Rafale

Jak się nazywał pierwszy seryjnie wyprodukowany i zastosowany bojowo samolot o zmiennej geometrii skrzydeł?

- A. Mig - 23
- B. Mirage F1 C
- C. F-111
- D. Tornado
- E. F-104 Starfighter
- F. Rafale



Among the given ones, select the largest cargo airport:

- A. El Prat - Barcelona
- B. Fidel-Luxembourg
- C. Franz Josef Strauss - Munich
- D. Gatwick-London
- E. Sheremetyevo – Moscow
- F. Istanbul Great Airport - Istanbul

Wśród podanych zaznacz największy lotniczy port cargo:

- A. El Prat – Barcelona
- B. Fidel – Luxembourg
- C. Franz Josef Strauss – Monachium
- D. Gatwick – London
- E. Sheremetyevo – Moskwa
- F. Istanbul Great Airport – Istanbul



In which of the following countries more than half of the energy is generated in nuclear power plants:

- A. Spain
- B. The Netherlands
- C. Germany
- D. Romania
- E. Slovakia
- F. Sweden

W którym z podanych państw ponad połowa energii wytwarzana jest w elektrowniach jądrowych:

- A. Hiszpania
- B. Niderlandy
- C. Niemcy
- D. Rumunia
- E. Słowacja
- F. Szwecja



What was Sudan's main export until the civil war broke out in 2023?

- A. cotton
- B. wool
- C. wood
- D. livestock
- E. drugs
- F. diamonds

Co było głównym surowcem eksportowanym przez Sudan do czasu wybuchu wojny domowej w 2023?

- A. bawełna
- B. wełna
- C. drewno
- D. zwierzęta hodowlane
- E. narkotyki
- F. diamenty





# HISTORY

## HISTORIA

55.

A significant influence on the development of the Japanese school of geopolitics (Nippon chiseigaku) was exerted by:

- A. Alfred Thayer Mahan
- B. Bronisław Piłsudski
- C. Samuel Huntington
- D. Karl Haushofer
- E. Henry Kissinger
- F. Wienamin Semyonov Tien-Shanski

Istotny wpływ na rozwój japońskiej szkoły geopolityki (Nippon chiseigaku) wywarł:

- A. Alfred Thayer Mahan
- B. Bronisław Piłsudski
- C. Samuel Huntington
- D. Karl Haushofer
- E. Henry Kissinger
- F. Wienamin Siemionow Tien-Szański



# HISTORY

## HISTORIA

56.

The territory of India seized by force by China in 1962 is:

- A. Aksai
- B. Arunachal Pradesh
- C. Karakoram
- D. Ladakh
- E. North Eastern Frontier Area (NEFA)
- F. Sikkim

Terytorium Indii zajęte zbrojnie przez Chiny w 1962 roku to:

- A. Aksai
- B. Arunachal Pradesh
- C. Karakoram
- D. Ladakh
- E. North Eastern Frontier Area (NEFA)
- F. Sikkim



# HISTORY

## HISTORIA

57.

The Treaty of Waitangi in 1870 ended:

- A. wars with the Araucans
- B. The Black Hawk War
- C. Red Cloud's war
- D. the first Boer War
- E. wars with the Maoris
- F. wars with the Seminoles

Traktat z Waitangi w 1870 roku zakończył:

- A. wojny z Araukanami
- B. Wojnę Czarnego Jastrzębia
- C. wojnę Czerwonej Chmury
- D. pierwszą wojnę burską
- E. wojny z Maorysami
- F. wojny z Seminolami



# HISTORY

## HISTORIA

58.

The McMahon Line was drawn in 1913 along the Himalayan watershed as the boundary between:

- A. British India and the Republic of China
- B. British India and Tibet
- C. Kingdom of Nepal and the Republic of China
- D. Kingdom of Nepal and Tibet
- E. Tibet and Burma
- F. Tibet and China

Linia McMahonona była wyznaczona w 1913 roku wzdłuż himalajskiego działu wodnego jako granica między:

- A. Indiami Brytyjskimi i Republiką Chińską
- B. Indiami Brytyjskimi i Tybetem
- C. Królestwem Nepalu i Republiką Chińską
- D. Królestwem Nepalu i Tybetem
- E. Tybetem i Birma
- F. Tybetem i Chinami



# HISTORY

## HISTORIA

59.

The most important trading cities on the Silk Road in the 1st century AD were:

- A. Aksu, Kokand, Samarkand
- B. Aksu, Kurgan, Turfan
- C. Aksu, Hotan, Ulaanbaatar
- D. Aksu, Samarkand, Ulaanbaatar
- E. Aksu, Hotan, Tehran
- F. none of the above

Najważniejszymi miastami handlowymi na jedwabnym szlaku w I wieku naszej ery były:

- A. Aksu, Kokand, Samarkanda
- B. Aksu, Kurgan, Turfan
- C. Aksu, Hotan, Ułan Bator
- D. Aksu, Samarkanda, Ułan Bator
- E. Aksu, Hotan, Teheran
- F. żadne z powyższych



# HISTORY

# HISTORIA

60.

Who is the precursor of the geocivilization approach in geopolitics?

- A. P. Bugby
- B. N. Danilewski
- C. S. Huntington
- D. F. Koneczny
- E. O. Spengler
- F. J.D. Unwin

Kto jest prekursorem podejścia geocywilizacyjnego w geopolityce?

- A. P. Bugby
- B. N. Danilewski
- C. S. Huntington
- D. F. Koneczny
- E. O. Spengler
- F. J. D. Unwin



Polskie  
Towarzystwo  
Geopolityczne



**THANK YOU & GOOD LUCK**

**DZIĘKUJEMY I ŻYCZYMY POWODZENIA**



**VI International Geopolitical  
Competition**